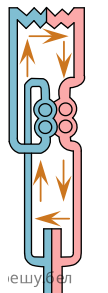
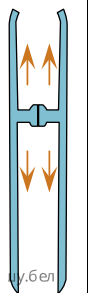
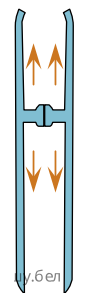
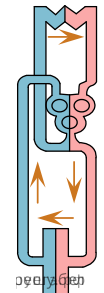


Для каждого животного подберите схему, отражающую особенности строения его кровеносной системы:

Животное	Схема строения кровеносной системы			
	1	2	3	4
А) осётр Б) выдра В) сардина Г) дельфин Д) черпаха	 ешубел	 ю.бел	 ю.бел	 дэвубел

Ответ запишите в виде сочетания букв и цифр, соблюдая алфавитную последовательность букв. Например: А4Б4В3Г2Д2.